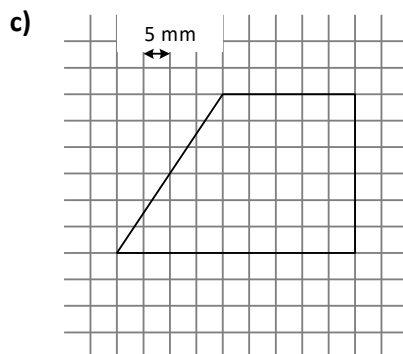
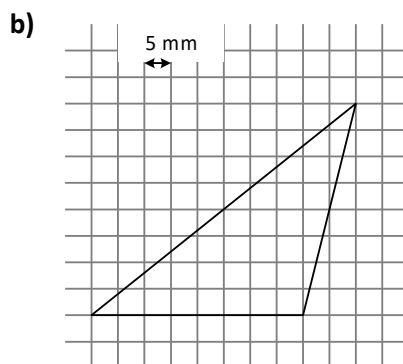
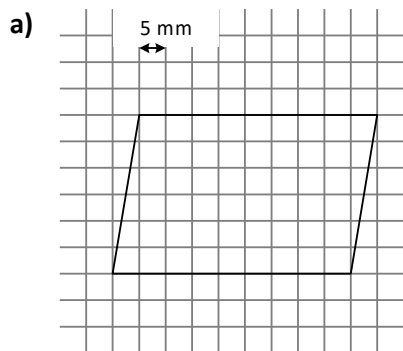


Mathematik 6		13.04.2021
Flächenberechnungen	Wiederholung	

1. Wandle die Flächeninhalte in die in Klammern angegebenen Einheiten um.

- a) 17 cm^2 [m^2 und mm^2]
- b) $2 \text{ a } 5 \text{ m}^2$ [m^2]
- c) 856 km^2 [m^2]
- d) $3,45 \text{ dm}^2$ [m^2 und cm^2]
- e) $0,84 \text{ cm}^2$ [m^2 und mm^2]
- f) $2,3 \text{ ha}$ [a und m^2]

2. Berechne die Flächeninhalte der folgenden Figuren.



3. Von einem Dreieck kennt man die Länge der Höhe (12 cm) und die Größe des Flächeninhalts (69 cm^2). Berechne die Länge der zugehörigen Seite.