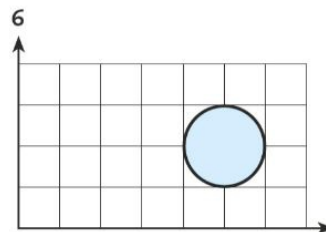
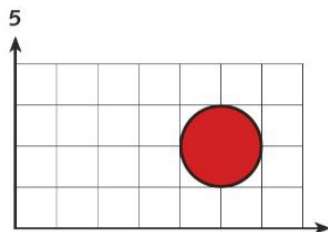
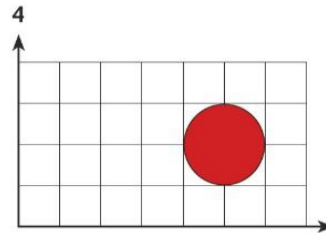
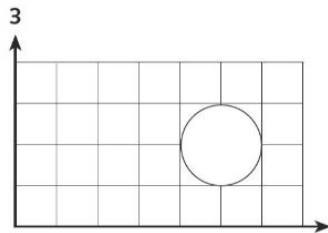
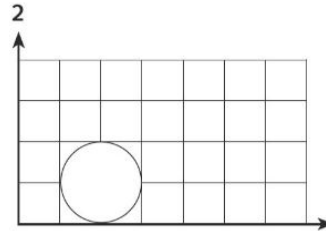
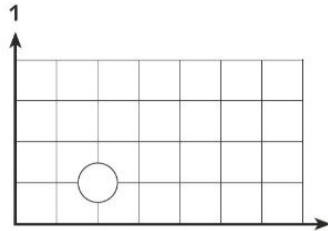


Aufgabe (Buch S. 31/2)**2 Methodenaufufe**

Welche Methoden werden hier jeweils bei den Übergängen von einem Bild zum nächsten Bild ausgeführt? Notiere in der Punktnotation. Methoden, die das Kreisobjekt hat, sind rechts aufgelistet.



Methoden eines Kreisobjekts

FüllfarbeSetzen(Farbe)
MittelpunktSetzen(Koordinaten)
RadiusSetzen(Zahl)
RandStärkeSetzen(Zahl)
RandFarbeSetzen(Farbe)
RandArtSetzen(LinienArt)

7 Methodenaufufe

Es werden der Reihe nach folgende Methoden aufgerufen:

Zum Zeichnen des Kreises in Bild 1: **Kreis.Zeichnen()** (*Das war nicht verlangt*)

Von Bild 1 zu Bild 2: **Kreis.RadiusSetzen(5 mm)**

Von Bild 2 zu Bild 3: **Kreis.PositionSetzen(x=2,5; y=1)**

Von Bild 3 zu Bild 4: **Kreis.FüllfarbeSetzen(rot)**

Von Bild 4 zu Bild 5: **Kreis.LinienstärkeSetzen(0,3 mm)** (*oder ein ähnlicher Wert*)

Von Bild 5 zu Bild 6: **Kreis.FüllfarbeSetzen(hellblau)**