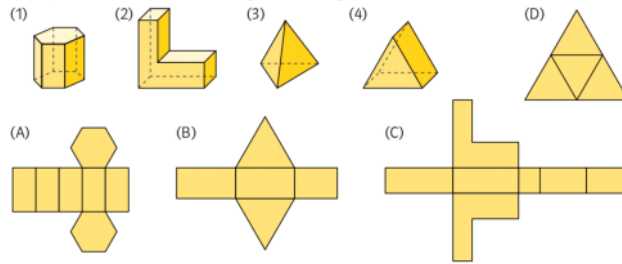


S. 120/1 a)

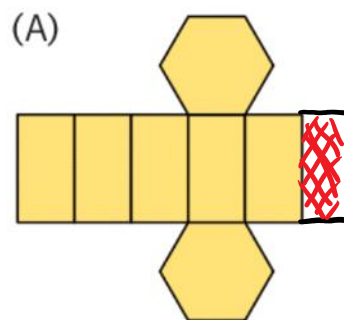
- 1 a) Bezeichne die Körper (1) bis (4).
 b) Jedes Netz soll zu einem Körper gehören. Ordne diese zu. Bei einigen der abgebildeten Körpernetze haben sich allerdings Fehler eingeschlichen. Finde und beschreibe diese.



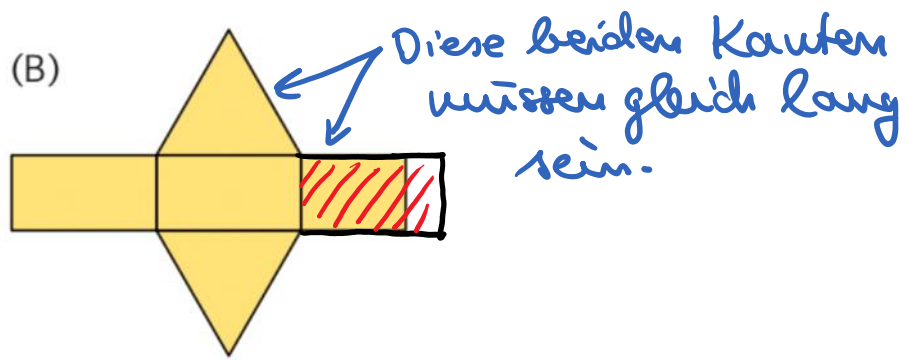
- (1) Prisma (2) Prisma
 (3) Tetraeder (Pyramide)
 (4) Prisma

- b) (1) - (A)
 (2) - (C)
 (3) - (D)
 (4) - (B)

Fehler bei (A): Es fehlt eine rechteckige Seitenfläche:



Fehler bei Netz (B): Das Rechteck auf der rechten Seite ist zu kurz, es muss genauso lang sein wie die Kante des Dreiecks



Fehler bei (C): Eine rechteckige Seitenfläche fehlt.

